



Series PP4QQ/4



प्रश्न-पत्र कोड 57/4/2
Q.P. Code

SET-2

रोल नं.

Roll No.

--	--	--	--	--	--	--	--

परीक्षार्थी प्रश्न-पत्र कोड को उत्तर-पुस्तिका के मुख-पृष्ठ पर अवश्य लिखें।

Candidates must write the Q.P. Code on the title page of the answer-book.

नोट

- (I) कृपया जाँच कर लें कि इस प्रश्न-पत्र में मुद्रित पृष्ठ 23 हैं।
- (II) कृपया जाँच कर लें कि इस प्रश्न-पत्र में 33 प्रश्न हैं।
- (III) प्रश्न-पत्र में दाहिने हाथ की ओर दिए गए प्रश्न-पत्र कोड को परीक्षार्थी उत्तर-पुस्तिका के मुख-पृष्ठ पर लिखें।
- (IV) कृपया प्रश्न का उत्तर लिखना शुरू करने से पहले, उत्तर-पुस्तिका में प्रश्न का क्रमांक अवश्य लिखें।
- (V) इस प्रश्न-पत्र को पढ़ने के लिए 15 मिनट का समय दिया गया है। प्रश्न-पत्र का वितरण पूर्वाह्न में 10.15 बजे किया जाएगा। 10.15 बजे से 10.30 बजे तक परीक्षार्थी केवल प्रश्न-पत्र को पढ़ेंगे और इस अवधि के दौरान वे उत्तर-पुस्तिका पर कोई उत्तर नहीं लिखेंगे।

NOTE

- (I) Please check that this question paper contains 23 printed pages.
- (II) Please check that this question paper contains 33 questions.
- (III) Q.P. Code given on the right hand side of the question paper should be written on the title page of the answer-book by the candidate.
- (IV) Please write down the serial number of the question in the answer-book before attempting it.
- (V) 15 minute time has been allotted to read this question paper. The question paper will be distributed at 10.15 a.m. From 10.15 a.m. to 10.30 a.m., the candidates will read the question paper only and will not write any answer on the answer-book during this period.

जीव विज्ञान (सैद्धान्तिक) BIOLOGY (Theory)

निर्धारित समय : 3 घण्टे

Time allowed : 3 hours

अधिकतम अंक : 70

Maximum Marks : 70

57/4/2/21

228 B

1



P.T.O.



सामान्य निर्देश :

निम्नलिखित निर्देशों को ध्यानपूर्वक पढ़िए और उनका पालन कीजिए :

- (i) इस प्रश्नपत्र में 33 प्रश्न हैं। सभी प्रश्न अनिवार्य हैं।
- (ii) प्रश्नपत्र पाँच खण्डों में विभाजित है – खण्ड क, ख, ग, घ तथा ङ।
- (iii) खण्ड क – प्रश्न संख्या 1 से 16 तक बहुविकल्पीय प्रकार के प्रश्न हैं। प्रत्येक प्रश्न 1 अंक का है।
- (iv) खण्ड ख – प्रश्न संख्या 17 से 21 तक अति लघु उत्तरीय प्रकार के प्रश्न हैं। प्रत्येक प्रश्न 2 अंकों का है।
- (v) खण्ड ग – प्रश्न संख्या 22 से 28 तक लघु उत्तरीय प्रकार के प्रश्न हैं। प्रत्येक प्रश्न 3 अंकों का है।
- (vi) खण्ड घ – प्रश्न संख्या 29 तथा 30 केस आधारित प्रश्न हैं। प्रत्येक प्रश्न 4 अंकों का है। इन उपप्रश्नों में से एक उपप्रश्न में आंतरिक विकल्प का चयन दिया गया है।
- (vii) खण्ड ङ – प्रश्न संख्या 31 से 33 तक दीर्घ-उत्तरीय प्रकार के प्रश्न हैं। प्रत्येक प्रश्न 5 अंकों का है।
- (viii) प्रश्नपत्र में समग्र विकल्प नहीं दिया गया है। यद्यपि, खण्ड ख, खण्ड ग तथा खण्ड घ में आंतरिक विकल्प का प्रावधान दिया गया है। परीक्षार्थी को इन प्रश्नों में से किसी एक प्रश्न का उत्तर लिखना है।
- (ix) ध्यान दें कि दृष्टिबाधित परीक्षार्थियों के लिए अलग प्रश्नपत्र है।
- (x) जहाँ कहीं आवश्यक हो, साफ-सुथरे और उचित रूप से नामांकित चित्र बनाए जाने चाहिए।



General Instructions :

Read the following instructions carefully and follow them :

- (i) *This question paper contains **33** questions. **All** questions are compulsory.*
- (ii) *Question paper is divided into **FIVE** sections – Section **A, B, C, D** and **E**.*
- (iii) *Section **A** – question number **1** to **16** are multiple choice type questions. Each question carries **1** mark.*
- (iv) *Section **B** – question number **17** to **21** are very short answer type questions. Each question carries **2** marks.*
- (v) *Section **C** – question number **22** to **28** are short answer type questions. Each question carries **3** marks.*
- (vi) *Section **D** – question number **29** and **30** are case-based questions. Each question carries **4** marks. Each question has subparts with internal choice in **one** of the subparts.*
- (vii) *Section **E** – question number **31** to **33** are long answer type questions. Each question carries **5** marks.*
- (viii) *There is no overall choice. However, an internal choice has been provided in section **B, C** and **D** of question paper. A candidate has to write answer for only **one** of the alternatives in such questions.*
- (ix) *Kindly note that there is a separate question paper for Visually Impaired candidates.*
- (x) *Wherever necessary, neat and properly labelled diagrams should be drawn.*

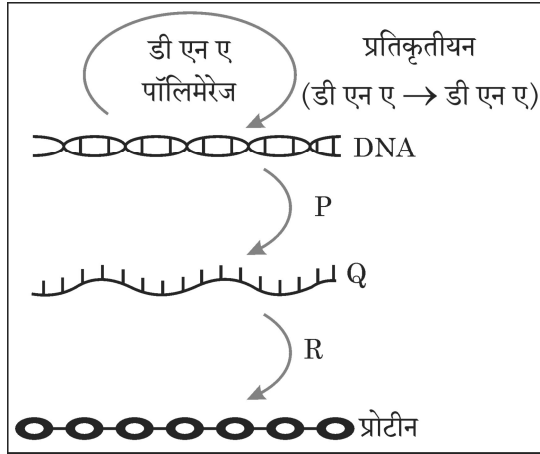


खण्ड – क

16 × 1 = 16

प्रश्न संख्या 1 से 16 तक बहुविकल्पीय प्रकार के 1 अंक के प्रश्न हैं।

1. एक आवृतबीजी के निषेचित बीजाण्ड की कोशिकाओं में n , $2n$ तथा $3n$ गुणसूत्रता क्रमशः इन कोशिकाओं में पाई जाती है। 1
 - (A) प्रतिव्यासांत, युग्मज तथा भ्रूणपोष
 - (B) युग्मज, बीजाण्डकाय तथा भ्रूणपोष
 - (C) भ्रूणपोष, बीजाण्डकाय तथा युग्मज
 - (D) प्रतिव्यासांत, सहाय कोशिका तथा अध्यावरण
2. मानव में टर्नर सिंड्रोम होने का कारण है 1
 - (A) असुगुणिता (एन्युप्लोइडी)
 - (B) सुगुणिता (यूप्लोइडी)
 - (C) बहुगुणिता (पॉलिप्लोइडी)
 - (D) अलिंगी विकार
3. मूल सिद्धांत (सेंट्रल डोग्मा) के निम्न आरेख में 'P', 'Q' तथा 'R' को निम्नलिखित में से किस विकल्प में सही ढंग से अभिचित्रित किया गया है ? 1



- (A) P – प्रतिकृतियन, Q – rआरएनए, R – अनुलेखन
- (B) P – रूपांतरण, Q – mआरएनए, R – अनुलेखन
- (C) P – प्रतिकृतियन, Q – mआरएनए, R – रूपांतरण
- (D) P – अनुलेखन, Q – mआरएनए, R – रूपांतरण





SECTION – A

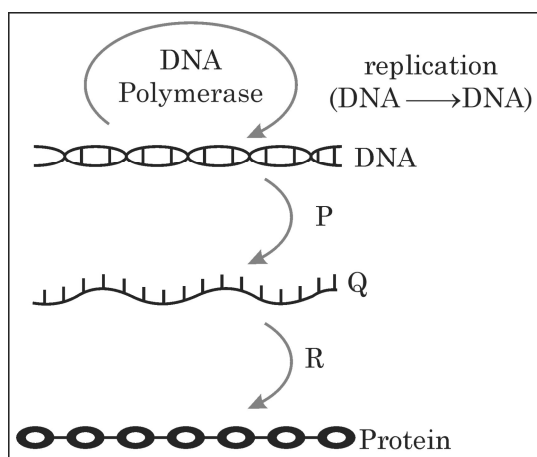
16 × 1 = 16

Question Nos. 1 to 16 are Multiple Choice type Questions, carrying 1 mark each.

1. In a fertilized ovule of an angiosperm, the cells in which n , $2n$ and $3n$ conditions respectively occur are : 1
 - (A) antipodal, zygote and endosperm
 - (B) zygote, nucellus and endosperm
 - (C) endosperm, nucellus and zygote
 - (D) antipodals, synergids and integuments

2. Turner's syndrome in humans occurs due to 1
 - (A) Aneuploidy
 - (B) Euploidy
 - (C) Polyploidy
 - (D) Autosomal abnormality

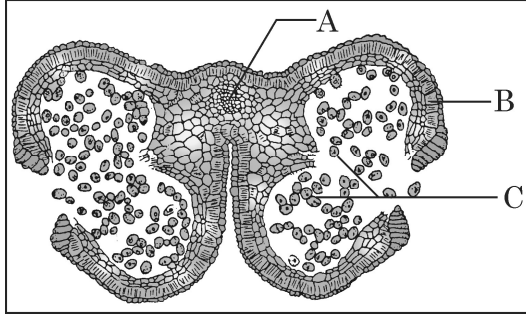
3. Which of the options has correct identification of 'P', 'Q' and 'R' in the illustration of 'Central Dogma' given below ? 1



- (A) P – Replication, Q – rRNA, R – Transcription
- (B) P – Translation, Q – mRNA, R – Transcription
- (C) P – Replication, Q – mRNA, R – Translation
- (D) P – Transcription, Q – mRNA, R – Translation

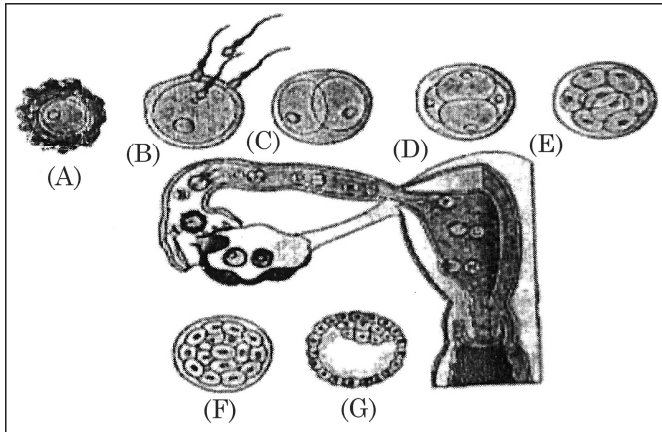


4. नीचे दिए चित्र में दर्शाए गए आवृतबीजी की लघुबीजाणुधानी की अनुप्रस्थ-काट का अध्ययन कीजिए : 1



उस विकल्प को चुनिए जिसमें 'A', 'B' तथा 'C' की सही पहचान की गई है ।

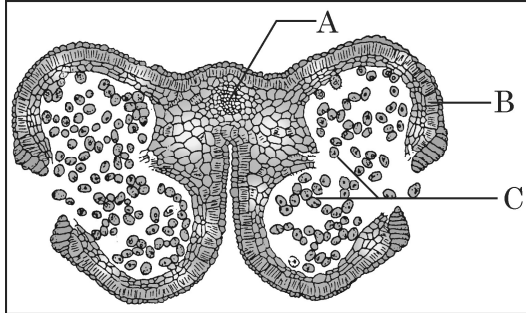
- (A) A – संयोजी, B – अन्तस्थीसियम, C – परागकण
 (B) A – अन्तस्थीसियम, B – संयोजी, C – परागकण
 (C) A – परागकण, B – संयोजी, C – अन्तस्थीसियम
 (D) A – अन्तस्थीसियम, B – परागकण, C – संयोजी
5. उस विकल्प को चुनिए जो नीचे दिए गए चित्र में मानव मादा (स्त्री) के जनन तंत्र में अंडाणु, तूतक (मोरूला) तथा कोरकपुटी की सही पहचान दर्शाता है : 1



- (A) अंडाणु-B, मोरूला-D, कोरकपुटी-F
 (B) अंडाणु-A, मोरूला-B, कोरकपुटी-G
 (C) अंडाणु-A, मोरूला-E, कोरकपुटी-G
 (D) अंडाणु-B, मोरूला-D, कोरकपुटी-G

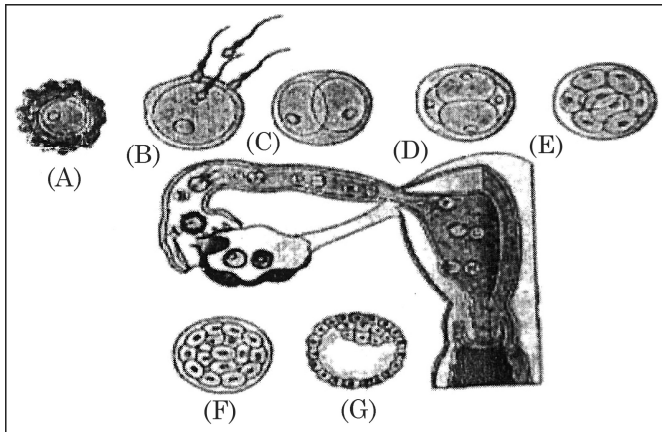


4. Study the following diagram of Transverse Section of a young anther of an angiosperm : 1



Select the option where parts 'A', 'B' and 'C' are correctly identified.

- (A) A – Connective, B – Endothecium, C – Pollen grain.
 (B) A – Endothecium, B – Connective, C – Pollen grain.
 (C) A – Pollen grain, B – Connective, C – Endothecium.
 (D) A – Endothecium, B – Pollen grain, C – Connective.
5. Select the option that gives the correct identification of ovum, morula and blastocyst in a human female reproduction system as shown in the following diagram : 1



- (A) Ovum – B, Morula – D, Blastocyst – F
 (B) Ovum – A, Morula – B, Blastocyst – G
 (C) Ovum – A, Morula – E, Blastocyst – G
 (D) Ovum – B, Morula – D, Blastocyst – G



6. नीचे दी गई तालिका का अध्ययन कीजिए :

1

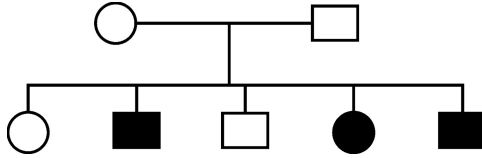
गर्भनिरोधक साधन/गर्भनिरोधी विधि	कार्य का तरीका
A. गोली (पिल)	I. शुक्राणु को गर्भाशय ग्रीवा तक पहुँचने से रोकना
B. कंडोम	II. अंतरोपण को रोकना
C. शुक्रवाहक उच्छेदन (वेसेक्टोमी)	III. अंडोत्सर्ग का संदमन
D. कॉपर-टी	IV. वीर्य में शुक्राणु नहीं होते

उस विकल्प का चयन कीजिए जिसमें गर्भनिरोधक साधन/गर्भनिरोधी विधि का उसके कार्य के तरीके से सही मिलान किया गया है :

- (A) A – III, B – II, C – I, D – IV (B) A – II, B – III, C – I, D – IV
(C) A – III, B – I, C – IV, D – II (D) A – IV, B – III, C – II, D – I

7. नीचे दिए गए वंशावली चार्ट में दर्शाए गए आनुवंशिक विकार के संवर्ग की पहचान कीजिए :

1



- (A) X – सहलग्न अप्रभावी (B) X – सहलग्न प्रभावी
(C) अलिंगसूत्री अप्रभावी (D) अलिंगसूत्री प्रभावी

8. 'एलीसा' (ELISA) तकनीक इस सिद्धांत पर आधारित है –

1

- (A) डीएनए प्रतिकृतीयन (B) प्रतिजन-प्रतिपिंड अन्योन्यक्रिया
(C) रोगजनक-प्रतिजन अन्योन्यक्रिया (D) प्रतिजन-प्रोटीन अन्योन्यक्रिया

9. समजात अंग इंगित करते हैं

1

- (A) अभिसारी विकास (B) अपसारी विकास
(C) अनुकूली विकिरण (D) प्राकृतिक वरण

10. 'आण्विक कैची' किस संवर्ग में आते हैं ?

1

- (A) विखंडन (क्लीविंग) एंजाइम (B) एंडोन्यूक्लिएज
(C) एक्सोन्यूक्लिएज (D) प्रतिबंधन एंजाइम

11. मानव के किस गुणसूत्र (क्रोमोसोम) में जीनों की संख्या न्यूनतम होती है ?

1

- (A) 21वाँ गुणसूत्र (क्रोमोसोम) (B) 16वाँ गुणसूत्र (क्रोमोसोम)
(C) 'X'- गुणसूत्र (क्रोमोसोम) (D) 'Y'-गुणसूत्र (क्रोमोसोम)



6. Study the table given below :

1

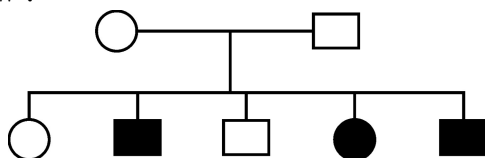
Contraceptive / Contraceptive Method	Mode of Action
A. The pill	I. Prevent sperm reaching cervix
B. Condom	II. Prevent implantation
C. Vasectomy	III. Inhibits ovulation
D. Copper-T	IV. Semen contains no sperm

Select the option where contraceptive/contraceptive method are correctly matched with their mode of action.

- (A) A – III, B – II, C – I, D – IV (B) A – II, B – III, C – I, D – IV
(C) A – III, B – I, C – IV, D – II (D) A – IV, B – III, C – II, D – I

7. Identify the category of genetic disorder depicted in the pedigree chart given below :

1



- (A) X-Linked recessive (B) X-Linked dominant
(C) Autosomal recessive (D) Autosomal dominant

8. ELISA technique is based on the principle of

1

- (A) DNA replication
(B) antigen-antibody interaction
(C) pathogen – antigen interaction
(D) antigen – protein interaction

9. Homologous organs indicate

1

- (A) Convergent evolution
(B) Divergent evolution
(C) Adaptive radiation
(D) Natural selection

10. The ‘molecular scissors’ fall in the category of :

1

- (A) Cleaving enzyme (B) Endonuclease
(C) Exonuclease (D) Restriction enzymes

11. Which of the chromosome in a human possesses the least number of genes ?

1

- (A) 21st chromosome (B) 16th chromosome
(C) X-chromosome (D) Y-chromosome



12. नीचे स्तम्भ-‘A’ में वाणिज्यिक महत्व के कुछ उत्पादों की सूची दी गई है, जबकि स्तम्भ-‘B’ में उनके स्रोत जीवों के नाम दिए गए हैं :

स्तम्भ-A	स्तम्भ-B
जैव-सक्रिय उत्पाद	स्रोत जीव
A. साइक्लोस्पोरिन-ए	(i) स्टैप्टोकोकस
B. स्टैटिन	(ii) ट्राइकोडर्मा पॉलीस्पोरम
C. स्टैप्टोकाइनेज	(iii) पेनिसिलियम नोटेटम
D. पेनिसिलिन	(iv) मोनोस्कस परप्थ्यूरीअस

उस विकल्प का चयन कीजिए जिसमें उत्पाद और उसके स्रोत जीव का सही मिलान किया गया है ।

- (A) A – (i), B – (ii), C – (iii), D – (iv)
 (B) A – (iii), B – (ii), C – (iv), D – (i)
 (C) A – (iv), B – (iii), C – (iv), D – (i)
 (D) A – (ii), B – (iv), C – (i), D – (iii)

1

प्रश्न संख्या 13 से 16 के लिए दो कथन दिए गए हैं – जिसमें एक को अभिकथन (A) तथा दूसरे को कारण (R) द्वारा अंकित किया गया है । इन प्रश्नों के सही उत्तर नीचे दिए गए कोडों (A), (B), (C) और (D) में से चुनकर दीजिए :

- (A) अभिकथन (A) और कारण (R) दोनों सही हैं और कारण (R), अभिकथन (A) की सही व्याख्या करता है ।
 (B) अभिकथन (A) और कारण (R) दोनों सही हैं, परन्तु कारण (R), अभिकथन (A) की सही व्याख्या नहीं करता है ।
 (C) अभिकथन (A) सही है, परन्तु कारण (R) गलत है ।
 (D) अभिकथन (A) गलत है, परन्तु कारण (R) सही है ।

13. अभिकथन (A) : प्लाज्मिड स्वतः प्रतिकृति बनाने वाले गोलाकार अतिरिक्त क्रोमोसोमी डीएनए हैं । 1
 कारण (R) : प्लाज्मिड आमतौर पर सुकेन्द्री कोशिकाओं में पाए जाते हैं ।

14. अभिकथन (A) : सरकार आविष्कारकों को उनकी खोज (आविष्कार) का एकस्व (पेटेंट) प्रदान करती है । 1
 कारण (R) : एकस्व (पेटेंट) किसी आविष्कार का अन्य व्यक्तियों द्वारा वाणिज्यिक उपयोग करने से रोकता है ।

15. अभिकथन (A) : अंजीर की एक जाति केवल ‘विशेष साथी’ बर्र द्वारा ही परागित हो सकती है । 1
 कारण (R) : बर्र समुचित अंडनिक्षेपण स्थल की खोज करते हुए अंजीर पुष्पक्रम को परागित करती है ।

16. अभिकथन (A) : कुछ जलीय पारिस्थितिक-तंत्रों में जैव मात्रा का पिरैमिड उलटा होता है । 1
 कारण (R) : उच्च पोषण स्तर के जीवों को अधिक ऊर्जा की आवश्यकता होती है ।





12. Given below is a list of some commercially important products in column A, whereas in column B are names of source organisms :

Column – A	Column – B
Bioactive Products	Source Organisms
A. Cyclosporin – A	(i) <i>Streptococcus</i>
B. Statins	(ii) <i>Trichoderma polysporum</i>
C. Streptokinase	(iii) <i>Penicillium notatum</i>
D. Penicillin	(iv) <i>Monascus purpureus</i>

Select the option where the product and their source organisms are correctly matched.

- (A) A – (i), B – (ii), C – (iii), D – (iv)
 (B) A – (iii), B – (ii), C – (iv), D – (i)
 (C) A – (iv), B – (iii), C – (iv), D – (i)
 (D) A – (ii), B – (iv), C – (i), D – (iii)

1

Question Nos. 13 to 16 consist of two statements – Assertion (A) and Reason (R). Answer these questions selecting the appropriate option given below :

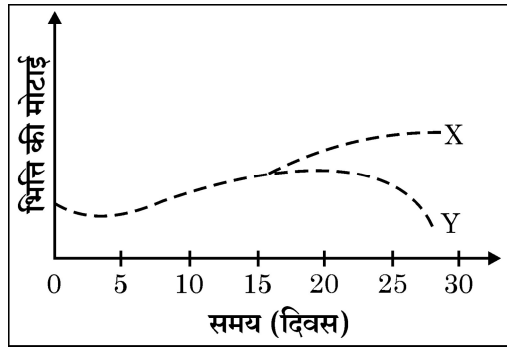
- (A) Both (A) and (R) are true and (R) is the correct explanation of (A).
 (B) Both (A) and (R) are true and (R) is not the correct explanation of (A).
 (C) (A) is true, but (R) is false.
 (D) (A) is false, but (R) is true.

13. **Assertion (A)** : Plasmids are autonomously replicating circular extra-chromosomal DNA. 1
Reason (R) : Plasmids are usually present in Eukaryotic cells.
14. **Assertion (A)** : Patents are granted by government to an inventor. 1
Reason (R) : Patents prevents others from commercial use of an invention.
15. **Assertion (A)** : A given fig species can be pollinated only by its partner' wasp. 1
Reason (R) : The wasp pollinates the fig inflorescence while searching for suitable egg laying sites.
16. **Assertion (A)** : Some aquatic ecosystems have inverted biomass pyramids. 1
Reason (R) : More energy is required by the organisms occupying higher trophic levels.



खण्ड – ख

17. एआरटी में कृत्रिम वीर्यसेचन क्या है ? किन परिस्थितियों में किसी व्यक्ति को इसके लिए चिकित्सीय परामर्श दिया जाता है ? 2
18. एडीए की कमी वाले रोगी को आनुवंशिकतः निर्मित लसीकाणुओं का निवेशन बार-बार क्यों करना पड़ता है ? इसके लिए संभावित एक स्थाई उपचार का सुझाव दीजिए । 2
19. नीचे दिए गए ग्राफ का अध्ययन कीजिए जिसमें स्त्री 'X' तथा स्त्री 'Y' की एक माह की अवधि में गर्भाशयी भित्ति की मोटाई में होने वाले परिवर्तनों का निरूपण किया गया है :



- स्त्री 'X' तथा स्त्री 'Y' के संदर्भ में ग्राफ क्या इंगित करता है ? समुचित कारण दीजिए । 2
20. (a) जैव-विविधता हॉट-स्पॉट क्षेत्र पृथ्वी के स्थलक्षेत्र के 2% से भी कम है, इन क्षेत्रों की विशेष सुरक्षा के द्वारा विलोपन की दर को कम किया जा सकता है । व्याख्या कीजिए ।
(b) भारत में किन्हीं दो हॉट-स्पॉट के नाम लिखिए । 2
21. (a) चारण खाद्य शृंखला तथा अपरद खाद्य शृंखला में अंतर स्थापित कीजिए । 2
- अथवा**
- (b) एक समुचित उदाहरण की सहायता से अंड परजीविता (ब्रूड पैरासीटिज्म) की व्याख्या कीजिए । 2

खण्ड – ग

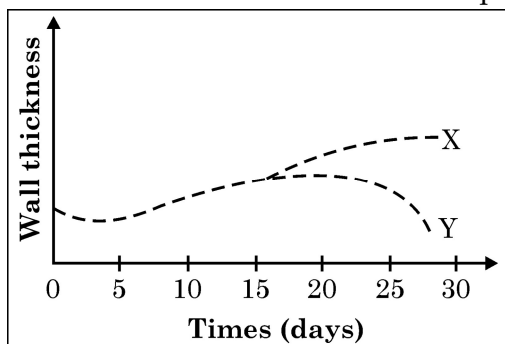
22. पुष्प के रंग के संदर्भ में दो स्वतंत्र क्रॉस (संकरण) किए गए, एक क्रॉस तद्रूप-प्रजनन-सम मटर के पौधों के बीच तथा दूसरा क्रॉस तद्रूप-प्रजनन-सम एंटीराइनम के पौधों के बीच कराया गया । उनकी F_1 पीढ़ी की संतति के लक्षणप्ररूप लिखिए । समुचित कारण देते हुए अपने उत्तर की पुष्टि कीजिए । 3
23. एक आवृतबीजी के नर युग्मकोद्भिद/लघुबीजाणु के आरेखीय काट का चित्र बनाइए तथा इसके किन्हीं चार भागों को नामांकित कीजिए । इसके किन्हीं दो भागों के कार्य लिखिए । 3





SECTION – B

17. What is artificial insemination in ART ? Under what conditions is the person medically advised to go for it ? 2
18. Why does a patient of ADA – deficiency require repeated infusions of genetically engineered lymphocytes ? Suggest a possible permanent remedy. 2
19. Study the graph given below that represents the changes in the thickening of the uterine wall in women 'X' and women 'Y' over a period of one month :



What does the graph with respect to woman 'X' and woman 'Y' indicate ? Give suitable reason. 2

20. (a) Biodiversity hotspots cover less than 2% of Earth's land area. Strict protection of these areas can reduce the rate of ongoing extinctions. Explain. 2
- (b) Name any two hotspots in India. 2
21. (a) Differentiate between grazing food chain and detritus food chain. 2
- OR**
- (b) Explain Brood parasitism with the help of a suitable example. 2

SECTION – C

22. With reference to flower colour two independent crosses were made, one between true breeding garden pea plants and another between true breeding *Antirrhinum* plants. Write the phenotypes of their F_1 -progeny. Justify your answer giving reason. 3
23. Draw a well labelled diagram of sectional view of male gametophyte/microspore of an angiosperm and write the functions of any two parts labelled. (Any four labels). 3

The chemical structure shows a 2-methylpent-2-ene chain (atoms 1-6) connected at atom 7 to a 4-hydroxy-4-propylphenyl group (atoms 7-11). The numbering is as follows: 1 (methyl), 2 (alkene), 3 (methyl), 4 (alkene), 5 (methyl), 6 (alkene), 7 (methylene), 8 (methylene), 9 (methylene), 10 (methylene), 11 (methyl). The phenyl ring has a hydroxyl group at position 4 and a propyl group at position 1.

(iii) इन ड्रगों के सेवन से मानव शरीर का कौन सा अंग प्रभावित होता है ?

अथवा

25. निम्नलिखित में पारजीवी जन्तुओं की भूमिका का उल्लेख कीजिए :

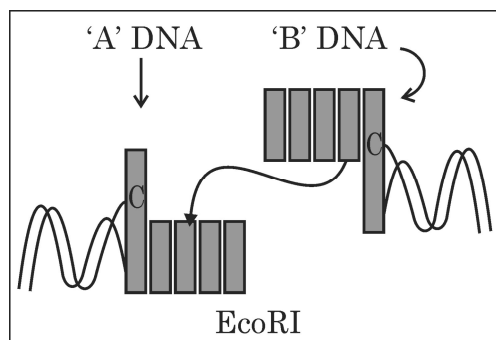
(a) जैविक उत्पाद के निर्माण में

(b) रोगों के अध्ययन में

(c) रासायनिक सुरक्षा परीक्षण में

3

26.



उपरोक्त व्यवस्थात्मक निरूपण में दो डीएनए खंडों को जूड़ते हुए दर्शाया गया है।

(a) खंड 'A' तथा खंड 'B' के नाम लिखिए ।

1

(b) ईकोआरI (EcoRI) द्वारा पहचाने गए “पैलिन्ड्रोम” को लिखिए ।

1

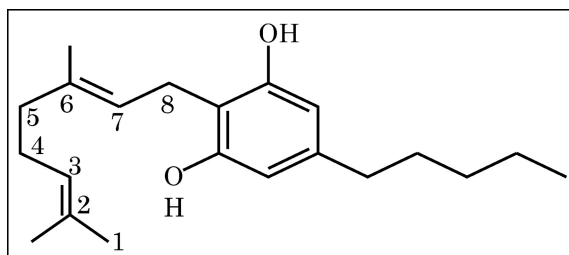
(c) ईकोआरI पैलिनड्रोम को किस स्थल पर काटता है। इसके उपरान्त पुनर्योगज डीएनए के निर्माण हेतु होने वाली परिघटनाओं का वर्णन कीजिए।

1





24. (a) (i) Name the group of drugs whose skeletal molecule is shown below :



- (ii) How are such drugs consumed ?
 (iii) Name the human body organ affected by the consumption of these drugs. $3 \times 1 = 3$

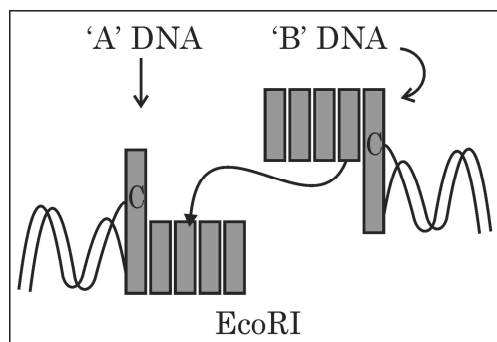
OR

- (b) Draw a schematic diagram of an antibody molecule and label any 4 parts. Mention their chemical nature. Name the cells which produce them. **3**

25. Explain the role of transgenic animals in :

- (a) Production of Biological products
 (b) Studying diseases
 (c) Chemical safety testing **3**

- 26.



The schematic representation as above is showing the linking of two DNA fragments.

- (a) Name 'A' and 'B' fragments. **1**
 (b) Write the 'palindrom' recognised by EcoRI. **1**
 (c) Where does EcoRI cut the palindrome ? Write the events followed thereafter to form a recombinant DNA. **1**



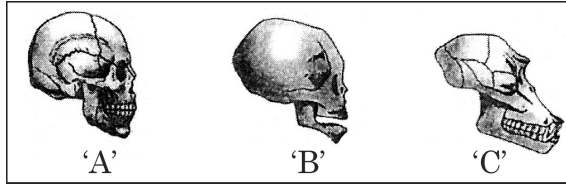
27. निम्नलिखित जीव जैव-उर्वरक के रूप में किस प्रकार कार्य करते हैं ? व्याख्या कीजिए ।

- (a) माइक्रोराइजा
- (b) ऐनाबीना
- (c) राइजोबियम

3

28. (a) तीन खोपड़ियों 'A', 'B' तथा 'C' के चित्र नीचे दिए गए हैं, यह किन प्राणियों की हैं ? इनमें से कौन सी दो एक दूसरे से अधिक सदृश्य हैं ?

2



- (b) 1.5 मिलियन पूर्व पाए जाने वाले (i) वनमानुष (ऐप) सदृश्य (ii) मानव सदृश्य नर वानरगण (प्राइमेट्स) के नाम लिखिए ।

1

खण्ड – घ (केस आधारित प्रश्न)

प्रश्न संख्या 29 तथा 30 केस आधारित प्रश्न हैं । प्रत्येक प्रश्न के 3 उपप्रश्न हैं जिसके एक उपप्रश्न में आंतरिक विकल्प दिया गया है ।

29. सामान्यतः सुकेन्द्रकी कोशिकाओं में डीएनए अणु के अनुदिश एक अनुलेखन इकाई की औसत लंबाई 8,000 न्यूक्लियोटाइड्स होती है, अतः अनुलेखन से बनने वाले आरएनए की लंबाई भी इतनी ही होती है । परन्तु उपरोक्त आरएनए से औसत आकार के 400 पॉलीपेप्टाइड अमीनो अम्ल के रूपांतरण के लिए यह केवल लगभग 1200 न्यूक्लियोटाइड्स ही लेता है ।

- (a) डीएनए से अनुलेखित होने वाले आरएनए उत्पाद का नाम लिखिए जो अंततः 400 पॉलीपेप्टाइड्स वाले अमीनो अम्ल का रूपांतरण (स्थानांतरण) करता है । डीएनए से इस प्रकार के आरएनए के अनुलेखन के लिए उत्तरदायी एंजाइम का नाम लिखिए ।

1

- (b) उस प्रक्रम का नाम लिखकर व्याख्या कीजिए जिसके द्वारा 8000 न्यूक्लियोटाइड्स वाले डीएनए से अनुलेखित होने वाला संशोधित आरएनए का निर्माण होता है जो 400 अमीनो अम्ल वाली पॉलीपेप्टाइड का रूपांतरण (स्थानांतरण) करता है ।

2





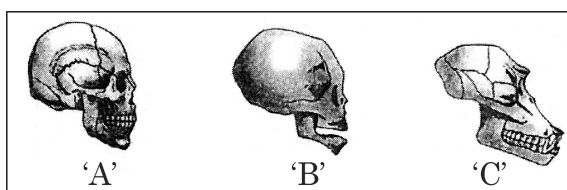
27. How do the following organisms act as bio-fertilisers ? Explain.

- (a) *Mycorrhiza*
- (b) *Anabaena*
- (c) *Rhizobium*

3

28. (a) Whose skulls 'A', 'B', and 'C' are shown below ? Which of the two are more similar to each other ?

2



- (b) Name the (i) ape like (ii) man like primates that existed 1.5 million years ago.

1

SECTION – D (Case Based Questions)

Question No. 29 and 30 are case based questions. Each question has 3 sub-questions with internal choice in one sub-question.

29. Generally, in eukaryotic cells the average length of a transcription unit along a DNA molecule is about 8,000 nucleotides, so the RNA product of the transcription is also that long. But it only takes about 1200 nucleotides from the above RNA product to translate average sized polypeptide of 400 Amino acids.

- (a) Name this RNA product transcribed from the DNA that subsequently translates into a polypeptide of 400 amino acids. Mention the enzyme responsible for transcribing this type of RNA from the DNA.
- (b) Name and explain the process the RNA molecule transcribed from 8000 nucleotide long DNA undergoes to be able to translate a polypeptide of 400 amino acids.

1

2



- (c) प्रोकैरिओट्स (असीमकेंद्री) तथा यूकैरिओट्स (सुकेन्द्री) में DNA अनुलेखन प्रक्रम में शामिल आरएनए पॉलीमेरेजों की संख्या लिखिए । 1

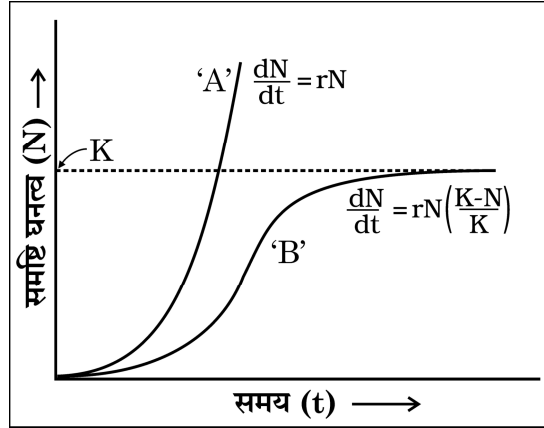
अथवा

- (c) एक असीमकेंद्री तथा सुकेन्द्री कोशिका में अनुलेखन स्थल में अन्तर का उल्लेख कीजिए । 1

30. निम्नलिखित परिच्छेद को पढ़िए :

समष्टियाँ जिस आवास में रहती हैं उसमें अपनी जनन योग्यता को अधिकतम बनाने के लिए विकसित होती हैं । पारिस्थितिकविज्ञों का सुझाव है कि जीवों के जीवन-वृत्त उनके आवास जिसमें वह रहते हैं के अजीवीय तथा जीवीय घटकों द्वारा लगाए गए प्रतिबंधों के संदर्भ में विकसित होते हैं । यह मानव सहित सभी समष्टियों के वृद्धि प्रतिरूप (पैटर्न) में परिलक्षित होता है ।

नीचे ग्राफ में दिए गए समष्टि वृद्धि वक्रों का अध्ययन करके अग्रगामी प्रश्न के उत्तर लिखिए :



- (a) वृद्धि वक्र 'A' तथा 'B' को पहचानिए । 1
(b) उल्लेख कीजिए कि ग्राफ में बिन्दु रेखा क्या इंगित करती है तथा इसका महत्व भी बताइए । 1

अथवा

- (b) वृद्धि वक्र 'A' की अपेक्षा वृद्धि वक्र 'B' अलग प्रतिरूप दर्शाता है । समुचित कारण द्वारा कथन की न्यायसंगतता सिद्ध कीजिए । 1
(c) (i) दोनों में से कौन सा वक्र अधिक “वास्तविक (यथार्थ)” है और क्यों ?
(ii) हमारे देश में मानव समष्टि (जनसंख्या) के संदर्भ में दोनों में से कौन सा वक्र वर्तमान समय में अधिक प्रासंगिक है और क्यों ? 1 + 1





- (c) Write the number of RNA polymerases involved in the transcription of DNA in a prokaryote and eukaryotes. 1

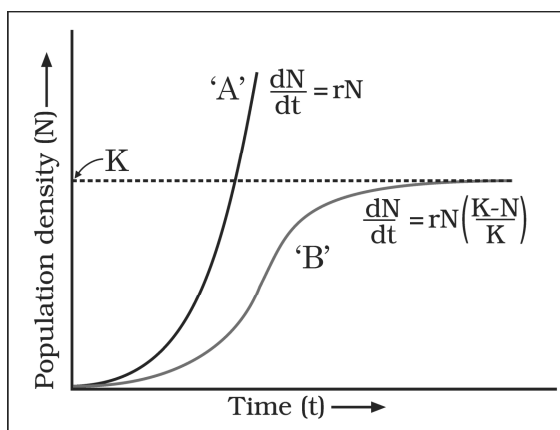
OR

- (c) Mention the difference in the site of transcription in a prokaryote and eukaryote cell. 1

30. Read the following passage :

Populations evolve to maximise their reproductive fitness in the habitat in which they live. Ecologists suggest, the life history of organisms have evolved in relations to the constraints imposed by the biotic and abiotic components of the habitat in which they live. This gets reflected in the population growth pattern of all organisms including humans.

Study the population growth curves shown in the given graph and answer the questions that follow :



- (a) Identify the growth curves 'A' and 'B'. 1
- (b) Mention what does the dotted line in the graph indicate and state its importance also. 1

OR

- (b) Growth curve 'B' shows a different pattern from that of growth curve 'A'. Justify giving one reason. 1
- (c) (i) Which one of the two curves is more "realistic" and why ?
- (ii) Which one of the two curves is relevant in present days with respect to human population in our country and why ? 1 + 1



खण्ड – ड

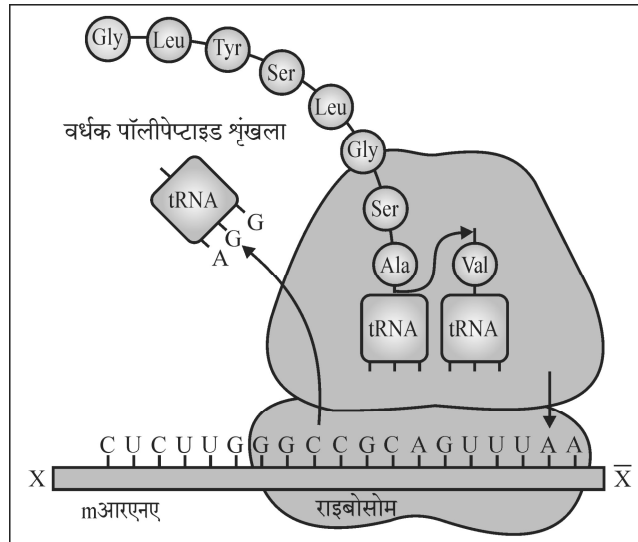
31. (a) (i) किसी स्त्री (मानव मादा) के आर्तव चक्र में निम्नलिखित प्रावस्थाओं की व्याख्या कीजिए :
- (1) ऋतुस्राव/रजोदर्शन
 - (2) पुटकीय प्रावस्था
 - (3) स्रावी प्रावस्था 3
- (ii) 'आर्तव चक्र की सही समझ (जानकारी) परिवार नियोजन के लिए अत्यधिक सहायक हो सकती है।' क्या आप इस कथन से सहमत हैं ? अपने उत्तर के समर्थन में समुचित कारण लिखिए। 2

अथवा

- (b) (i) आवृत्तबीजियों में भ्रूण के विकास से पहले भ्रूणपोष का विकास क्यों होता है ? परिपक्व एल्बुमिनस बीजों में भ्रूणपोष की भूमिका का वर्णन कीजिए। 2
- (ii) एक द्विबीजपत्री में भ्रूण के विकास के विभिन्न चरणों को भ्रूण के पूर्णतः परिपक्व होने तक की अवस्थाओं का नामांकित चित्र बनाइए। 3
32. (a) एचआईवी के मानव शरीर में प्रविष्ट होने के समय से लेकर उसके पूर्णरूपेण एड्स में बदल जाने तक के जीवन चक्र का वर्णन कीजिए। 5

अथवा

- (b) (i) मानव में मलेरिया रोग के अभिलक्षण लिखिए तथा व्याख्या कीजिए कि यह अभिलक्षण किसके कारण उत्पन्न होते हैं ? 2½
- (ii) मलेरियाई परजीवी के जीवन चक्र की लैंगिक अवस्थाओं के प्रारंभ होने से उसके पूर्ण होने तक के चरणों का वर्णन कीजिए जब तक वह नए चक्र प्रारंभ करने के लिए तैयार होता है। 2½
33. (a) नीचे दिए गए योजनात्मक आरेख का अध्ययन करके आगे दिए गए प्रश्नों के उत्तर लिखिए :





SECTION – E

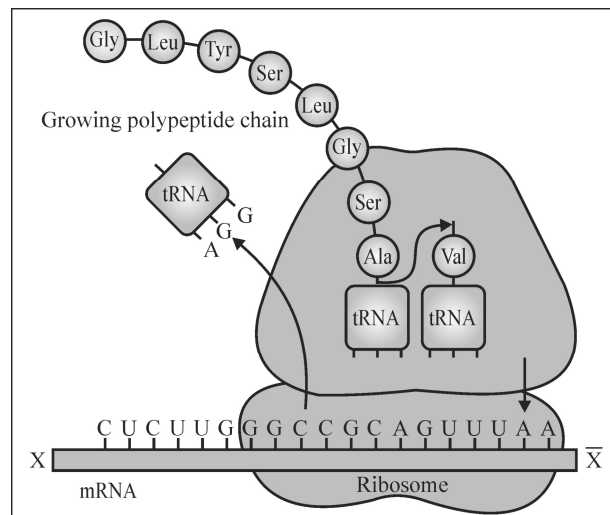
31. (a) (i) Explain the following phases in the menstrual cycle of a human female :
 (1) Menstruation
 (2) Follicular phase
 (3) Luteal phase 3
 (ii) 'A proper understanding of the menstrual cycle can help immensely in family planning.' Do you agree with the statement ?
 Provide reasons for your answer. 2

OR

- (b) (i) Why does endosperm development precede embryo development in angiosperm seeds ? State the role of endosperm in mature albuminous seeds. 2
 (ii) Draw a labelled diagram showing the different embryonic stages of a dicot plant, upto a fully mature embryo. 3
32. (a) Describe the life cycle of HIV from the time of its entry into the human body till full blown AIDS sets in. 5

OR

- (b) (i) Write the symptoms of malaria in human and explain what causes these symptoms. 2½
 (ii) Describe the different steps in the sexual mode of reproduction in the life cycle of a malarial parasite from the time of its initiation till where it is completed and ready to start a fresh cycle. 2½
33. (a) Study the schematic diagram given below and answer the questions that follow :





- (i) दर्शाए गए mआरएनए खंड में 'X' से 'X̄' की ध्रुवणता को पहचानिए। उल्लेख कीजिए कि रूपांतरण के दौरान पॉलीपेप्टाइड श्रृंखला में और कितने अमीनो अम्ल जोड़े जा सकते हैं और क्यों। 1½
- (ii) रूपांतरण (स्थानांतरण) के लिए प्रारंभक प्रकूट, इसका प्रतिप्रकूट (एंटीकोडान) तथा इसके अमीनो अम्ल का नाम लिखिए जिसको यह कोड करता है। 1½
- (iii) अनुकूलक अणु के आवेशीकरण की व्याख्या कीजिए। इस अणु को आवेशित करने की आवश्यकता क्यों होती है ? 2

अथवा

- (b) (i) मानव रक्त विकार 'दात्र कोशिका अरक्तता (सिकल सेल एनीमिया) को यह नाम क्यों दिया गया है ? 1
- (ii) इस विकार की अभिव्यक्ति के आनुवंशिक आधार की व्याख्या कीजिए। 2
- (iii) एक क्रॉस बनाकर समझाइए कि सामान्य जनकों (युगल) से दात्र कोशिका अरक्तता (सिकल सेल एनीमिया) वाला बच्चा (संतति) किस प्रकार पैदा हो सकता है। 2
-





- (i) Identify the polarity from 'X' to ' \bar{X} ' in the mRNA segment shown. Mention how many more amino acids can be added to the polypeptide that is being translated and why. 1½
- (ii) Write the initiating codon for translation, its anticodon and the amino acid it codes for. 1½
- (iii) Explain the charging of an adaptor molecule. Why this molecule needs to be charged ? 2

OR

- (b) (i) Why is sickle-cell anaemia, a human blood disorder so named ? 1
- (ii) Explain the genetic basis that results in the expression of this disorder. 2
- (iii) Work out a cross to explain how normal parents may have a sickle-cell anaemic child. 2
-



