



Series GEFH1/4



SET ~ 2

रोल नं.

Roll No.



प्रश्न-पत्र कोड
Q.P. Code

59/4/2

परीक्षार्थी प्रश्न-पत्र कोड को उत्तर-पुस्तिका के मुख-पृष्ठ पर अवश्य लिखें ।

Candidates must write the Q.P. Code on the title page of the answer-book. *



राजनीति विज्ञान POLITICAL SCIENCE

निर्धारित समय : 3 घण्टे

अधिकतम अंक : 80

Time allowed : 3 hours

Maximum Marks : 80

नोट / NOTE :

- कृपया जाँच कर लें कि इस प्रश्न-पत्र में मुद्रित पृष्ठ 23 हैं ।
Please check that this question paper contains 23 printed pages.
- प्रश्न-पत्र में दाहिने हाथ की ओर दिए गए प्रश्न-पत्र कोड को परीक्षार्थी उत्तर-पुस्तिका के मुख-पृष्ठ पर लिखें ।
Q.P. Code given on the right hand side of the question paper should be written on the title page of the answer-book by the candidate.
- कृपया जाँच कर लें कि इस प्रश्न-पत्र में 30 प्रश्न हैं ।
Please check that this question paper contains 30 questions.
- कृपया प्रश्न का उत्तर लिखना शुरू करने से पहले, उत्तर-पुस्तिका में प्रश्न का क्रमांक अवश्य लिखें ।
Please write down the serial number of the question in the answer-book before attempting it.
- इस प्रश्न-पत्र को पढ़ने के लिए 15 मिनट का समय दिया गया है । प्रश्न-पत्र का वितरण पूर्वाह्न में 10.15 बजे किया जाएगा । 10.15 बजे से 10.30 बजे तक छात्र केवल प्रश्न-पत्र को पढ़ेंगे और इस अवधि के दौरान वे उत्तर-पुस्तिका पर कोई उत्तर नहीं लिखेंगे ।
15 minute time has been allotted to read this question paper. The question paper will be distributed at 10.15 a.m. From 10.15 a.m. to 10.30 a.m., the students will read the question paper only and will not write any answer on the answer-book during this period.



सामान्य निर्देश :

निम्नलिखित निर्देशों को बहुत सावधानी से पढ़िए और उनका सख्ती से पालन कीजिए :

- (i) इस प्रश्न-पत्र में 30 प्रश्न हैं । सभी प्रश्न अनिवार्य हैं ।
- (ii) यह प्रश्न-पत्र पाँच खण्डों में विभाजित है – खण्ड क, ख, ग, घ एवं ङ ।
- (iii) खण्ड क में प्रश्न संख्या 1 से 12 तक बहुविकल्पीय (MCQ) प्रकार के एक-एक अंक के प्रश्न हैं ।
- (iv) खण्ड ख में प्रश्न संख्या 13 से 18 तक लघु-उत्तरीय (SA) प्रकार के दो-दो अंकों के प्रश्न हैं । प्रत्येक प्रश्न का उत्तर 50 शब्दों से अधिक नहीं होना चाहिए ।
- (v) खण्ड ग में प्रश्न संख्या 19 से 23 तक दीर्घ-उत्तरीय (LA) प्रकार के चार-चार अंकों के प्रश्न हैं । प्रत्येक प्रश्न का उत्तर 100 शब्दों से अधिक नहीं होना चाहिए ।
- (vi) खण्ड घ में प्रश्न संख्या 24 से 26 तक अवतरण, कार्टून तथा मानचित्र-आधारित प्रश्न हैं ।
- (vii) खण्ड ङ में प्रश्न संख्या 27 से 30 तक दीर्घ-उत्तरीय (LA) प्रकार के छह-छह अंकों के प्रश्न हैं । प्रत्येक प्रश्न का उत्तर 170 शब्दों से अधिक नहीं होना चाहिए ।
- (viii) प्रश्न-पत्र में कोई समग्र विकल्प नहीं है । यद्यपि कुछ प्रश्नों में आंतरिक विकल्प का प्रावधान दिया गया है । इन प्रश्नों में से केवल एक ही प्रश्न का उत्तर लिखा जाए ।
- (ix) इसके अतिरिक्त, प्रत्येक खण्ड एवं प्रश्नों के साथ, जहाँ आवश्यक हैं, निर्देश दिए गए हैं ।

खण्ड क

प्रश्न संख्या 1 से 12 तक बहुविकल्पीय (MCQ) प्रकार के एक-एक अंक के प्रश्न हैं । 12×1=12

1. निम्नलिखित में से कौन-से कथन 'स्वतंत्रता के बाद किए गए विकास' से संबंधित राजनीतिक निर्णयों के बारे में सही हैं ?
 - (i) लगभग सभी सहमत थे कि भारत के विकास का अर्थ आर्थिक संवृद्धि और सामाजिक-आर्थिक न्याय दोनों होना चाहिए ।
 - (ii) इस बात पर भी सहमति बनी कि यह मामला व्यापारियों, उद्योगपतियों और किसानों पर नहीं छोड़ा जा सकता ।
 - (iii) केवल सरकार को न्यायोचित विकास सुनिश्चित करने में महत्वपूर्ण भूमिका निभानी चाहिए ।
 - (iv) सभी राजनीतिक दलों से सलाह-मशविरा और जनता की स्वीकृति हासिल करना जरूरी था ।

सही विकल्प चुनिए :

- | | |
|-------------------------|------------------------|
| (a) (i), (ii) और (iii) | (b) (i), (ii) और (iv) |
| (c) (ii), (iii) और (iv) | (d) (i), (iii) और (iv) |



General Instructions :

Read the following instructions very carefully and strictly follow them :

- (i) *This question paper contains **30** questions. **All** questions are **compulsory**.*
- (ii) *This question paper is divided into **five** sections – Section **A, B, C, D** and **E**.*
- (iii) *In **Section A** – Questions no. **1** to **12** are Multiple Choice (MCQ) type questions, carrying **1** mark each.*
- (iv) *In **Section B** – Questions no. **13** to **18** are Short Answer (SA) type questions, carrying **2** marks each. Answers to these questions should not exceed **50** words each.*
- (v) *In **Section C** – Questions no. **19** to **23** are Long Answer (LA) type questions, carrying **4** marks each. Answers to these questions should not exceed **100** words each.*
- (vi) *In **Section D** – Questions no. **24** to **26** are Passage, Cartoon and Map-based questions.*
- (vii) *In **Section E** – Questions no. **27** to **30** are Long Answer (LA) type questions, carrying **6** marks each. Answers to these questions should not exceed **170** words each.*
- (viii) *There is no overall choice in the question paper. However, an internal choice has been provided in few questions. Only **one** of the choices in such questions has to be attempted.*
- (ix) *In addition to this, separate instructions are given with each section and question, wherever necessary.*

SECTION A

*Questions no. **1** to **12** are Multiple Choice (MCQ) type questions, carrying **1** mark each.* $12 \times 1 = 12$

1. Which of these statements about the political decisions taken after independence related to development are correct ?
 - (i) Almost everyone agreed that the development of India should mean both economic growth and social-economic justice.
 - (ii) It was also agreed that this matter cannot be left to businessmen, industrialists and farmers.
 - (iii) Only the government should play a key role to ensure growth with justice.
 - (iv) It was necessary to consult all political parties and get public approval.

Choose the correct option :

- | | |
|--------------------------|-------------------------|
| (a) (i), (ii) and (iii) | (b) (i), (ii) and (iv) |
| (c) (ii), (iii) and (iv) | (d) (i), (iii) and (iv) |



2. द्वितीय पंचवर्षीय योजना के बारे में निम्नलिखित में से कौन-सा कथन सही **नहीं** है ?
- (a) इसका मसौदा कुछ प्रमुख उद्योगपतियों ने तैयार किया था ।
 - (b) इसमें भारी उद्योगों के विकास पर जोर दिया गया ।
 - (c) इसकी समयावधि 1956 – 61 थी ।
 - (d) इसकी कोशिश तेज गति से संरचनात्मक बदलाव करने की थी ।
3. निम्नलिखित में से कौन अपारम्परिक सुरक्षा के लिए एक खतरा है ?
- (a) युद्ध
 - (b) हथियारों का निर्माण
 - (c) आतंकवाद
 - (d) आन्तरिक गड़बड़ी (अशांति)
4. भारत की परमाणु नीति के बारे में, निम्नलिखित कथनों में से सही कथन/कथनों को चुनिए :
- (i) भारत का परमाणु कार्यक्रम 1940 के दशक के अंत में शुरू किया गया था ।
 - (ii) नेहरू परमाणु हथियारों के खिलाफ थे और उन्होंने महाशक्तियों से व्यापक परमाणु निरस्त्रीकरण के लिए ज़ोर दिया ।
 - (iii) परमाणु अप्रसार सन्धि को अपनाने के समय भारत इसके समर्थन में था लेकिन इसके अनिश्चितकालीन विस्तार की योजना के कारण, भारत को अपना रुख बदलना पड़ा ।
- सही विकल्प चुनिए :
- (a) (i) और (ii)
 - (b) केवल (i)
 - (c) केवल (iii)
 - (d) (i), (ii) और (iii)



2. Which one of the following statements about the Second Five Year Plan is **not** correct ?
- (a) It was drafted by some leading industrialists.
 - (b) It stressed on the development of heavy industries.
 - (c) Its time period was 1956 – 61.
 - (d) It wanted to bring about quick structural transformation.
3. Which among the following is a threat to non-traditional security ?
- (a) War
 - (b) Manufacturing of weapons
 - (c) Terrorism
 - (d) Internal disturbances
4. From the following statements about India's Nuclear Policy, choose the correct statement(s) :
- (i) India's nuclear programme was started in the late 1940s.
 - (ii) Nehru was against nuclear weapons and pleaded with the superpowers for comprehensive nuclear disarmament.
 - (iii) India was in support of the NPT at the time of its adoption but its indefinite expansion plan forced India to change its stand.

Choose the correct option :

- (a) (i) and (ii)
- (b) Only (i)
- (c) Only (iii)
- (d) (i), (ii) and (iii)



5. नीचे दो कथन दिए गए हैं — जिनमें एक को अभिकथन (A) तथा दूसरे को कारण (R) द्वारा अंकित किया गया है । इन कथनों को ध्यान से पढ़िए और नीचे दिए गए विकल्पों (a), (b), (c) और (d) में से उत्तर के रूप में सही विकल्प चुनिए ।

अभिकथन (A) : सोवियत प्रणाली नौकरशाही से ग्रस्त और सत्तावादी बन गई थी, जिससे उसके नागरिकों का जीवन बहुत कठिन हो गया ।

कारण (R) : द्वितीय विश्व युद्ध के बाद सोवियत संघ एक महान शक्ति बन गया था ।

- (a) अभिकथन (A) और कारण (R) दोनों सही हैं और कारण (R), अभिकथन (A) की सही व्याख्या करता है ।
 (b) अभिकथन (A) और कारण (R) दोनों सही हैं, परन्तु कारण (R), अभिकथन (A) की सही व्याख्या **नहीं** करता है ।
 (c) अभिकथन (A) सही है, परन्तु कारण (R) ग़लत है ।
 (d) अभिकथन (A) ग़लत है, परन्तु कारण (R) सही है ।
6. नीचे दो कथन दिए गए हैं — जिनमें एक को अभिकथन (A) तथा दूसरे को कारण (R) द्वारा अंकित किया गया है । इन कथनों को ध्यान से पढ़िए और नीचे दिए गए विकल्पों (a), (b), (c) और (d) में से उत्तर के रूप में सही विकल्प चुनिए ।

अभिकथन (A) : 1971 में पाकिस्तान के साथ युद्ध के दौरान भारत में बहुत बड़ी संख्या में शरणार्थी आए ।

कारण (R) : पाकिस्तान ने भारतीय अर्थव्यवस्था को क्षति पहुँचाने के लिए शरणार्थी भेजने की योजना बनाई थी ।

- (a) अभिकथन (A) और कारण (R) दोनों सही हैं और कारण (R), अभिकथन (A) की सही व्याख्या करता है ।
 (b) अभिकथन (A) और कारण (R) दोनों सही हैं, परन्तु कारण (R), अभिकथन (A) की सही व्याख्या **नहीं** करता है ।
 (c) अभिकथन (A) सही है, परन्तु कारण (R) ग़लत है ।
 (d) अभिकथन (A) ग़लत है, परन्तु कारण (R) सही है ।

7. 1956 में किस चीनी नेता ने भारत की आधिकारिक यात्रा की ?

- (a) हुआ गुओफेंग (b) झाओ ज़ियांग
 (c) चाऊ एनलाई (d) ली पेंग

8. निम्नलिखित को कालक्रमानुसार व्यवस्थित कीजिए :

- (i) कांग्रेस पार्टी में विभाजन
 (ii) इन्दिरा गाँधी द्वारा आपातकाल को लागू करना
 (iii) पाँचवा आम चुनाव
 (iv) लाल बहादुर शास्त्री की प्रधानमंत्री पद पर नियुक्ति
- सही विकल्प चुनिए :

- (a) (i), (iv), (ii), (iii) (b) (ii), (iv), (i), (iii)
 (c) (i), (ii), (iii), (iv) (d) (iv), (i), (iii), (ii)



5. Two statements are given below — one labelled as Assertion (A) and the other labelled as Reason (R). Read these statements carefully and choose the correct option as the answer from the options (a), (b), (c) and (d) given below.

Assertion (A) : The Soviet system became very bureaucratic and authoritarian, making life very difficult for its citizens.

Reason (R) : The Soviet Union became a great power after the Second World War.

- (a) Both Assertion (A) and Reason (R) are true and Reason (R) is the correct explanation of the Assertion (A).
- (b) Both Assertion (A) and Reason (R) are true, but Reason (R) is **not** the correct explanation of the Assertion (A).
- (c) Assertion (A) is true, but Reason (R) is false.
- (d) Assertion (A) is false, but Reason (R) is true.

6. Two statements are given below — one labelled as Assertion (A) and the other labelled as Reason (R). Read these statements carefully and choose the correct option as the answer from the options (a), (b), (c) and (d) given below.

Assertion (A) : There was a large-scale migration of refugees into India during the 1971 war with Pakistan.

Reason (R) : Pakistan had planned the migration to disturb the Indian economy.

- (a) Both Assertion (A) and Reason (R) are true and Reason (R) is the correct explanation of the Assertion (A).
- (b) Both Assertion (A) and Reason (R) are true, but Reason (R) is **not** the correct explanation of the Assertion (A).
- (c) Assertion (A) is true, but Reason (R) is false.
- (d) Assertion (A) is false, but Reason (R) is true.

7. Which Chinese leader paid an official visit to India in 1956 ?

- (a) Hua Guofeng
- (b) Zhao Ziyang
- (c) Zhou Enlai
- (d) Li Peng

8. Arrange the following in chronological order :

- (i) Split in Congress Party
- (ii) Imposition of Emergency by Indira Gandhi
- (iii) Fifth General Elections
- (iv) Appointment of Lal Bahadur Shastri as Prime Minister

Choose the correct option :

- (a) (i), (iv), (ii), (iii)
- (b) (ii), (iv), (i), (iii)
- (c) (i), (ii), (iii), (iv)
- (d) (iv), (i), (iii), (ii)



9. निम्नलिखित में से कौन-से कथन 'अरब स्प्रिंग' के बारे में सही *नहीं* हैं ?

- (i) इसकी शुरुआत 2008 में हुई ।
- (ii) यह संघर्ष आतंकवाद और प्रदूषण के विरुद्ध था ।
- (iii) यह आन्दोलन भ्रष्टाचार और बेरोज़गारी के विरुद्ध था ।
- (iv) यह मूल रूप से लोकतंत्र की माँग के लिए था ।

सही विकल्प चुनिए :

- (a) केवल (ii) और (iv)
- (b) केवल (iii) और (iv)
- (c) केवल (i) और (ii)
- (d) केवल (i) और (iii)

10. राष्ट्रों के बीच रक्षा मामलों में नियमित आधार पर सूचनाओं के आदान-प्रदान की प्रक्रिया को किस रूप में जाना जाता है ?

- (a) विश्वास बहाली के उपाय
- (b) शस्त्र नियंत्रण
- (c) गठबंधन
- (d) निरस्त्रीकरण

11. 1964 में जवाहरलाल नेहरू की मृत्यु के बाद भारत का प्रधानमंत्री कौन बना ?

- (a) जगजीवन राम
- (b) मोरारजी देसाई
- (c) इन्दिरा गाँधी
- (d) लाल बहादुर शास्त्री

12. निम्नलिखित में से कौन-सा एक देश सार्क (दक्षेस) का सदस्य *नहीं* है ?

- (a) भारत
- (b) नेपाल
- (c) श्रीलंका
- (d) चीन



9. Which of the following statements about the 'Arab Spring' are **not** correct ?

- (i) It began in 2008.
- (ii) The struggle was against terrorism and pollution.
- (iii) It raised its voice against corruption and unemployment.
- (iv) It was basically a demand for democracy.

Select the correct option :

- (a) (ii) and (iv) only
- (b) (iii) and (iv) only
- (c) (i) and (ii) only
- (d) (i) and (iii) only

10. A process of exchanging information on defence matters between nations on a regular basis is known as _____.

- (a) Confidence-Building Measures
- (b) Arms Control
- (c) Alliance
- (d) Disarmament

11. Who became the Prime Minister of India after the death of Jawaharlal Nehru in 1964 ?

- (a) Jagjivan Ram
- (b) Morarji Desai
- (c) Indira Gandhi
- (d) Lal Bahadur Shastri

12. Which one of the following countries is **not** a member of SAARC ?

- (a) India
- (b) Nepal
- (c) Sri Lanka
- (d) China



खण्ड ख

13. भारत की गुट-निरपेक्षता की नीति को न्यायसंगत सिद्ध करने के लिए कोई दो तर्क दीजिए । $2 \times 1 = 2$
14. यूनिसेफ के किन्हीं दो कार्यों को उजागर कीजिए जो इसे संयुक्त राष्ट्रसंघ का एक महत्वपूर्ण हिस्सा बनाते हैं । $2 \times 1 = 2$
15. भारत की पारम्परिक सुरक्षा को सुदृढ़ बनाने के लिए कोई दो उपाय सुझाइए । $2 \times 1 = 2$
16. 1977 के आम चुनावों में दक्षिणी राज्यों में कांग्रेस की जीत के किन्हीं दो कारणों की व्याख्या कीजिए । $2 \times 1 = 2$
17. नीति आयोग के किन्हीं दो कार्यों का मूल्यांकन कीजिए । $2 \times 1 = 2$
18. गठबन्धन की सरकारों के लिए विभिन्न प्रकार के हितों को समायोजित और एकत्र करना क्यों आवश्यक है ? स्पष्ट कीजिए । 2

खण्ड ग

19. “हाल के वर्षों में हुए भारत के प्रभावशाली प्रौद्योगिकीय विकास ने देश को अमरीका का एक आकर्षक भागीदार बना दिया है ।” कथन के पक्ष में कोई चार उदाहरण दीजिए । $4 \times 1 = 4$
20. हाल के वर्षों में जम्मू-कश्मीर में हुए किन्हीं दो बदलावों का विश्लेषण कीजिए । $2 \times 2 = 4$
21. “वैश्वीकरण ने राष्ट्र-राज्यों की शक्ति का स्थानान्तरण वैश्विक उपभोक्ताओं को कर दिया है ।” कथन के पक्ष में दो तर्क दीजिए । $2 \times 2 = 4$
22. ‘वीटो शक्ति’ का क्या अभिप्राय है ? ऐसे किन्हीं चार देशों के नाम लिखिए जिन्हें यह शक्ति प्राप्त है । $2 + 2 = 4$
23. 1980 में भारत में हुए मध्यावधि चुनावों के किन्हीं दो मुख्य कारणों की परख कीजिए । $2 \times 2 = 4$



SECTION B

13. Give any two arguments to justify India's policy of Non-alignment. $2 \times 1 = 2$
14. Highlight any two functions of UNICEF which make it a significant part of the United Nations. $2 \times 1 = 2$
15. Suggest any two measures to strengthen India's traditional security. $2 \times 1 = 2$
16. Explain any two reasons for the victory of Congress in the Southern States in the general election of 1977. $2 \times 1 = 2$
17. Evaluate any two functions of NITI Aayog. $2 \times 1 = 2$
18. Why is it necessary for coalition governments to accommodate and aggregate variety of interests ? Explain. 2

SECTION C

19. "India's impressive technological growth in recent years has made the country an attractive partner of US." Support the statement giving any four examples. $4 \times 1 = 4$
20. Analyse any two developments of the recent years in Jammu and Kashmir. $2 \times 2 = 4$
21. "Globalisation has shifted power from nation-states to global consumers." Support the statement with two arguments. $2 \times 2 = 4$
22. What is meant by 'Veto Power' ? Name any four countries that enjoy veto power. $2 + 2 = 4$
23. Examine any two main reasons which led to the mid-term elections in India in 1980. $2 \times 2 = 4$



खण्ड घ

24. भारत के दिए गए राजनीतिक रेखा-मानचित्र (पृष्ठ 13 पर) में चार राज्यों को ①, ②, ③ तथा ④ के द्वारा अंकित किया गया है। नीचे दी गई जानकारी के आधार पर इन राज्यों की पहचान कीजिए और अपनी उत्तर-पुस्तिका में इनके सही नाम, प्रयोग की गई जानकारी की क्रम संख्या तथा मानचित्र में दिया गया संबंधित अक्षर, निम्नलिखित प्रारूप के अनुसार लिखिए :

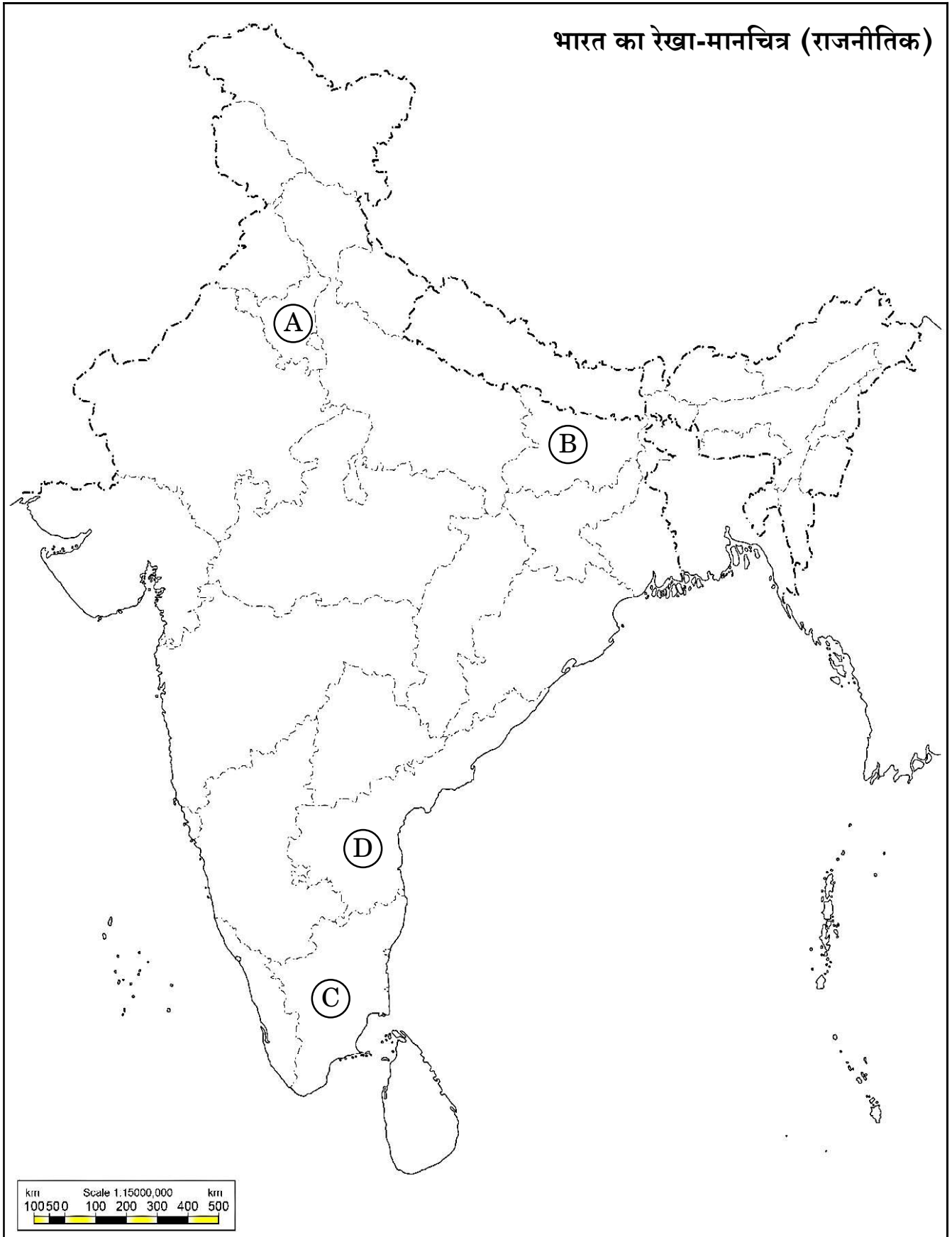
4×1=4

- भारत के पूर्व राष्ट्रपति वी.वी. गिरी से सम्बन्धित राज्य।
- कांग्रेस के नेता के. कामराज से सम्बन्धित राज्य।
- वह राज्य जहाँ से “आया राम, गया राम” जुमले का जन्म हुआ।
- 1965 – 1967 में सबसे गंभीर खाद्य संकट का सामना करने वाला राज्य।

प्रयोग की गई जानकारी की क्रम संख्या	मानचित्र में संबंधित अक्षर	राज्य का नाम
(i)		
(ii)		
(iii)		
(iv)		



प्रश्न सं. 24 के लिए





SECTION D

24. In the given political outline map of **India** (on page 15), four States have been marked as (A), (B), (C) and (D). Identify these States on the basis of information given below and write their correct names in your answer-book along with the respective serial number of the information used and the concerned alphabets given in the map as per the following format :

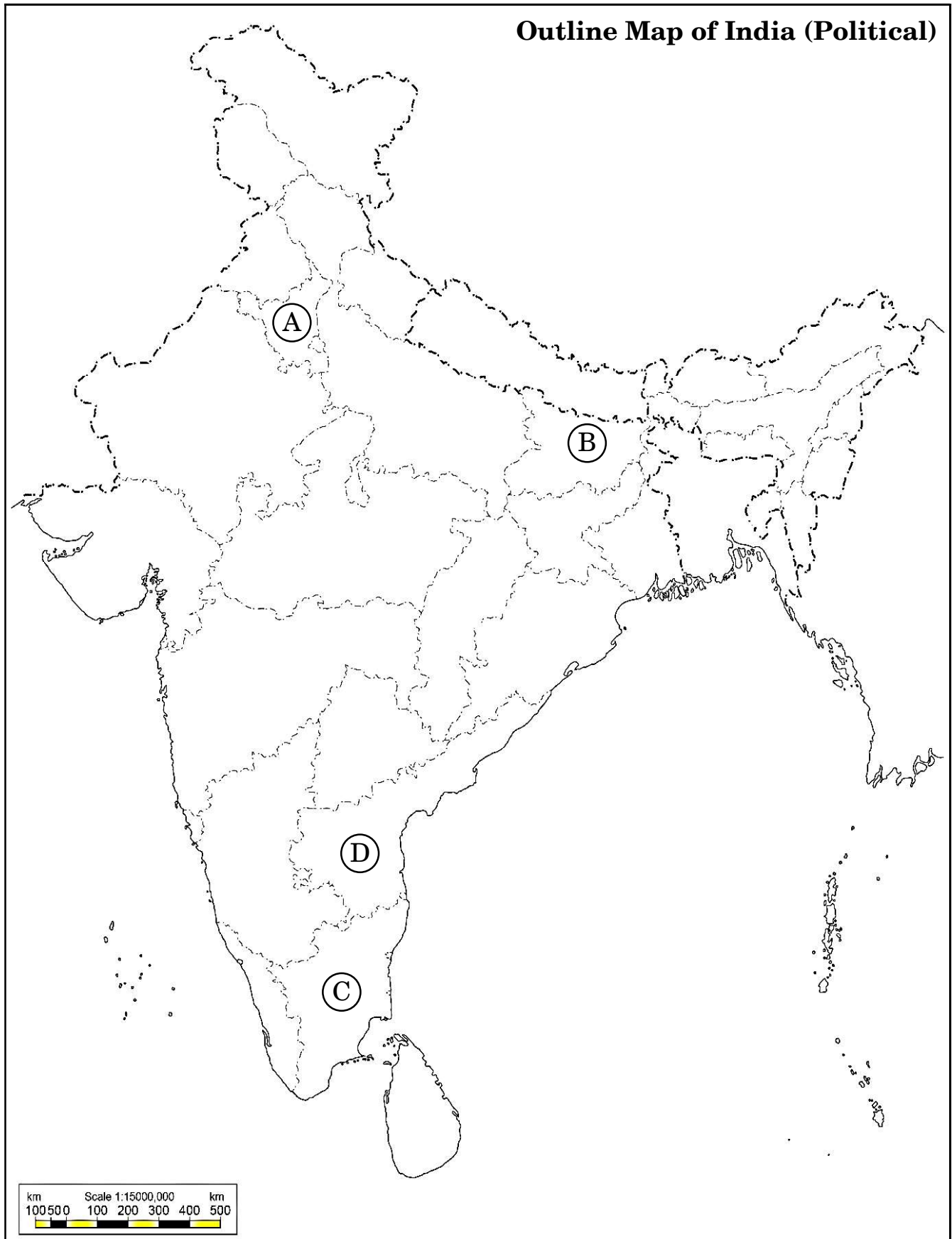
$4 \times 1 = 4$

- (i) The State related to V.V. Giri, the former President of India.
- (ii) The State related to the Congress leader, K. Kamaraj.
- (iii) The State from where the phrase, “Aya Ram, Gaya Ram” originated.
- (iv) The State which faced the most acute food crisis in 1965 – 1967.

Sr. no. of the information used	Concerned alphabet in the map	Name of the State
(i)		
(ii)		
(iii)		
(iv)		



For question no. 24






नोट : निम्नलिखित प्रश्न केवल दृष्टिबाधित परीक्षार्थियों के लिए प्रश्न संख्या 24 के स्थान पर हैं ।

4×1=4

- (24.1) भारत के पूर्व राष्ट्रपति वी.वी. गिरी से सम्बन्धित राज्य का नाम लिखिए ।
- (24.2) कांग्रेस के नेता के. कामराज किस राज्य से सम्बन्धित थे ?
- (24.3) उस राज्य का नाम लिखिए जहाँ से प्रसिद्ध जुमले, “आया राम, गया राम” का जन्म हुआ ।
- (24.4) 1965 – 67 में किस राज्य को सबसे गंभीर खाद्य संकट का सामना करना पड़ा था ?

25. नीचे दिए गए चित्र का ध्यानपूर्वक अध्ययन कीजिए और निम्नलिखित प्रश्नों के उत्तर दीजिए :

4×1=4




- (i) दिया गया चित्र निम्नलिखित में से किस देश से सम्बन्धित है ?
- (a) म्यांमार (b) नेपाल
- (c) बांग्लादेश (d) श्रीलंका
- (ii) दिए गए चित्र में दर्शाया गया स्मारक निम्नलिखित में से किस स्थान पर स्थित है ?
- (a) शान्तिनिकेतन (b) कलकत्ता यूनिवर्सिटी
- (c) बर्मा यूनिवर्सिटी (d) ढाका यूनिवर्सिटी



Note : The following questions are for the **Visually Impaired Candidates** only, in lieu of Q. No. 24. 4×1=4

- (24.1) Name the State related to the former President of India, V.V. Giri.
- (24.2) Name the State to which the Congress leader K. Kamaraj belonged.
- (24.3) Name the State from where the famous phrase, “Aya Ram, Gaya Ram” originated.
- (24.4) Which State faced the most acute food crisis in 1965 – 67 ?

25. Study the given picture and answer the questions that follow : 4×1=4



- (i) The given picture belongs to which one of the following countries ?
 - (a) Myanmar
 - (b) Nepal
 - (c) Bangladesh
 - (d) Sri Lanka
- (ii) The memorial shown in the picture is located at which one of the following places ?
 - (a) Shantiniketan
 - (b) Calcutta University
 - (c) Burma University
 - (d) Dhaka University



(iii) चित्र से सम्बन्धित घटना किस वर्ष में घटित हुई थी ?

- | | |
|----------|----------|
| (a) 1950 | (b) 1975 |
| (c) 1982 | (d) 1987 |

(iv) इस स्मारक के लिए कौन-सा सैनिक शासक उत्तरदायी था ?

- | | |
|-------------------|---------------------------|
| (a) जनरल मुशरफ | (b) ले. जनरल एच.एम. इरशाद |
| (c) ज़ियाउर रहमान | (d) ज़िया-उल-हक |

नोट : निम्नलिखित प्रश्न केवल दृष्टिबाधित परीक्षार्थियों के लिए प्रश्न संख्या 25 के स्थान पर हैं /

4×1=4

(25.1) भूटान के विकास में सहायता का सबसे बड़ा स्रोत कौन-सा देश है ?

- | | |
|-----------------------------|---------|
| (a) संयुक्त राष्ट्र अमेरिका | (b) रूस |
| (c) भारत | (d) चीन |

(25.2) दक्षिण एशिया का वह देश जो चारों तरफ से जमीन से घिरा हुआ है, है :

- | | |
|------------|----------------|
| (a) मालदीव | (b) बांग्लादेश |
| (c) नेपाल | (d) पाकिस्तान |

(25.3) पूर्वी पाकिस्तान में, पश्चिमी पाकिस्तान के प्रभुत्व के खिलाफ लोकप्रिय संघर्ष किसके नेतृत्व में किया गया था ?

- | |
|---------------------------|
| (a) शेख मुजीबुर रहमान |
| (b) शेख मुजीब मोहम्मद |
| (c) जनरल याहिया खान |
| (d) ले. जनरल एच.एम. इरशाद |

(25.4) सात दलों का गठबंधन किस देश से सम्बन्धित है ?

- | | |
|-----------|---------------|
| (a) भूटान | (b) नेपाल |
| (c) भारत | (d) पाकिस्तान |



- (iii) When did the incident related to the picture happen ?
- (a) 1950 (b) 1975
(c) 1982 (d) 1987
- (iv) Which military ruler was the cause for this memorial ?
- (a) General Musharraf (b) Lt. General H.M. Ershad
(c) Ziaur Rahman (d) Zia-ul-Haq

Note : The following questions are for the **Visually Impaired Candidates** only, in lieu of Q. No. 25. 4×1=4

- (25.1) Which country is Bhutan's biggest source of developmental aid ?
- (a) USA (b) Russia
(c) India (d) China
- (25.2) A landlocked country of South Asia is :
- (a) Maldives (b) Bangladesh
(c) Nepal (d) Pakistan
- (25.3) In East Pakistan, the popular struggle against the domination of West Pakistan was led by which one of the following leaders ?
- (a) Sheikh Mujibur Rahman
(b) Sheikh Mujib Mohammed
(c) General Yahya khan
(d) Lt. General H.M. Ershad
- (25.4) The Seven Party Alliance is related to which country ?
- (a) Bhutan (b) Nepal
(c) India (d) Pakistan



26. निम्नलिखित अवतरण का ध्यानपूर्वक अध्ययन कीजिए और दिए गए प्रश्नों के उत्तर दीजिए :

4×1=4

भारतीय राष्ट्रीय आंदोलन के नेता द्वि-राष्ट्र सिद्धांत में विश्वास नहीं करते थे, फिर भी विभाजन धार्मिक आधार पर हुआ था । मुस्लिम लीग का गठन औपनिवेशिक भारत में मुसलमानों के हितों की रक्षा के लिए किया गया था । यह मुसलमानों के लिए अलग राष्ट्र की माँग करने में सबसे आगे थी ।

- (i) विभाजन के समय निम्नलिखित में से किस राज्य को धार्मिक बहुलता के आधार पर विभाजित किया गया था ?
- (a) उत्तर प्रदेश
 - (b) गुजरात
 - (c) बंगाल
 - (d) जम्मू और कश्मीर
- (ii) निम्नलिखित में से किस रजवाड़े के शासक ने सबसे पहले भारत से अलग स्वतंत्र रहने की घोषणा की थी ?
- (a) हैदराबाद
 - (b) मणिपुर
 - (c) जूनागढ़
 - (d) त्रावणकोर
- (iii) मुस्लिम लीग का गठन क्यों किया गया था ?
- (a) 'द्वि-राष्ट्र सिद्धांत' प्रस्तावित करने के लिए
 - (b) एक नया राष्ट्र पाकिस्तान बनाने के लिए
 - (c) पाकिस्तान का संविधान तैयार करने के लिए
 - (d) औपनिवेशिक भारत में मुसलमानों के हितों की रक्षा करने के लिए



26. Read the passage given below and answer the questions that follow : $4 \times 1 = 4$

The leaders of the Indian national struggle did not believe in the two-nation theory. And yet, the partition on religious basis had taken place. The Muslim League was formed to protect the interests of the Muslims in colonial India. It was in the forefront of the demand for a separate Muslim nation.

- (i) At the time of partition, which one of the following States was divided on the basis of religious majority ?
- (a) Uttar Pradesh
 - (b) Gujarat
 - (c) Bengal
 - (d) Jammu and Kashmir
- (ii) Which one of the following Princely States was the first to announce to remain independent and not to join the Union of India ?
- (a) Hyderabad
 - (b) Manipur
 - (c) Junagarh
 - (d) Travancore
- (iii) Why was the Muslim League formed ?
- (a) To propose 'two-nation theory'
 - (b) To form a new nation named Pakistan
 - (c) To prepare the constitution of Pakistan
 - (d) To protect the interests of the Muslims in colonial India



- (iv) विभाजन के बारे में भारत की अन्तरिम सरकार का क्या रुख था ?
- (a) वह किसी भी सूरत में विभाजन नहीं चाहती थी ।
- (b) वह शांति, सद्भाव और धर्म की समानता चाहती थी ।
- (c) वह भारत को एक हिन्दू राष्ट्र बनाना चाहती थी ।
- (d) वह व्यक्तियों के साथ धार्मिक आधार पर व्यवहार चाहती थी ।

खण्ड ड

27. (क) वैश्विक राजनीति के लिए महत्वपूर्ण किन्हीं तीन पर्यावरण सम्बन्धी चिन्ताओं को उजागर कीजिए । 3×2=6

अथवा

- (ख) किन्हीं तीन अन्तर्राष्ट्रीय पर्यावरणीय आन्दोलनों एवं उनके महत्त्व को उजागर कीजिए । 3×2=6

28. (क) समकालीन विश्व में आसियान की भूमिका का मूल्यांकन कीजिए । 6

अथवा

- (ख) “चीनी अर्थव्यवस्था में सुधार के बावजूद चीन में सभी को आर्थिक सुधारों का लाभ नहीं मिला ।” इस कथन के पक्ष में कोई तीन तर्क लिखिए । 3×2=6

29. (क) “ऑपरेशन इराकी फ्रीडम” के उद्देश्यों एवं परिणामों का विश्लेषण कीजिए । 3+3=6

अथवा

- (ख) सोवियत संघ के विघटन के किन्हीं तीन परिणामों का विश्लेषण कीजिए । 3×2=6

30. (क) एन.डी.ए. III और ए.डी.ए. IV के दौरान भारतीय राजनीति में हुए किन्हीं तीन प्रमुख बदलावों को उजागर कीजिए । 3×2=6

अथवा

- (ख) 2004 के लोक सभा चुनावों के बाद भारत के अधिकांश राजनीतिक दलों के बीच किन्हीं तीन बिन्दुओं पर उभरी सहमति को उजागर कीजिए । 3×2=6



- (iv) What was the stand of the Interim Indian Government on partition ?
- (a) It was against partition.
 - (b) It wanted peace, harmony and equality of religion.
 - (c) It wanted India to become a Hindu nation.
 - (d) It was in favour of treating people on religious basis.

SECTION E

27. (a) Highlight any three environmental concerns significant to global politics. 3×2=6

OR

- (b) Highlight any three international environmental movements and their importance. 3×2=6

28. (a) Evaluate the role of ASEAN in the contemporary world. 6

OR

- (b) “In spite of the improvement in the Chinese economy, not everyone in China has received the benefits of economic reforms.” Support the statement with three arguments. 3×2=6

29. (a) Analyse the objectives of the “Operation Iraqi Freedom” and its outcomes. 3+3=6

OR

- (b) Analyse any three consequences of the collapse of the Soviet Union. 3×2=6

30. (a) Highlight any three major developments that took place in Indian politics during NDA III and NDA IV. 3×2=6

OR

- (b) Highlight any three points of consensus that emerged among most political parties in India after the Lok Sabha Elections, 2004. 3×2=6